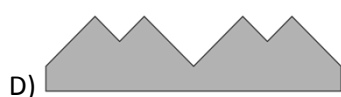
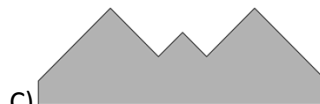
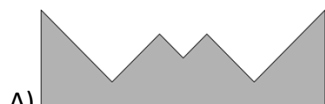


INVESTICE DO ROZVOJE VZDĚLÁVÁNÍ

SESTAV OBDELNÍK

1. Které dva tvary do sebe přesně zapadnou a vytvoří obdélník?



2. ~~Označ všechny vrcholy jednotlivých útvarů různými písmeny. Kolik písmen na ně budeš potřebovat?~~